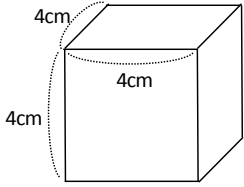


図形（体積）

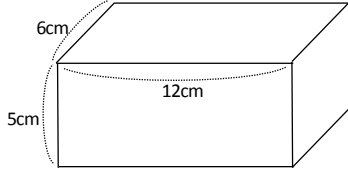
組 番 名前

1 次の立方体と直方体の体積を求めなさい。

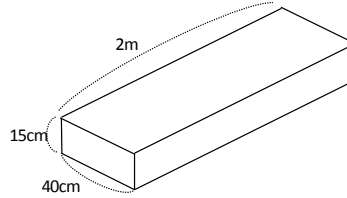
①



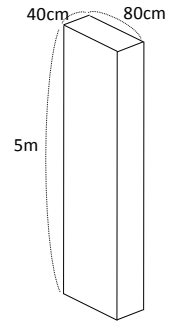
②



③



④

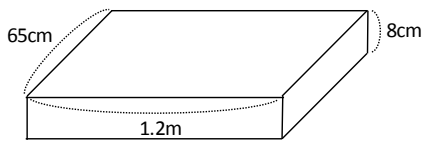


2 次の立方体や直方体の体積を、()の中の単位で求めなさい。

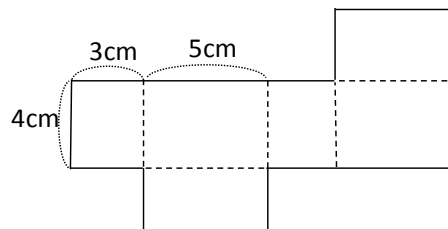
① 1辺3mの立方体 (cm^3)

② たて0.6m, 横1.5m, 高さ80cmの立方体 (m^3)

③ (cm^3)



3 右の図のような直方体の展開図を組み立てときの直方体の体積を求めなさい。



4 下の図のような立体の体積を求めなさい。

