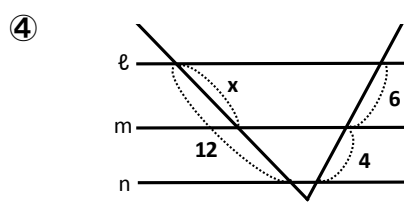
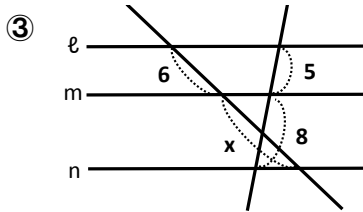
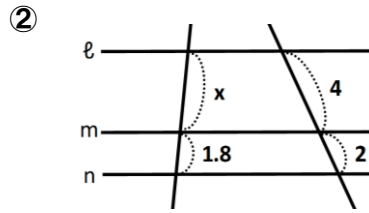
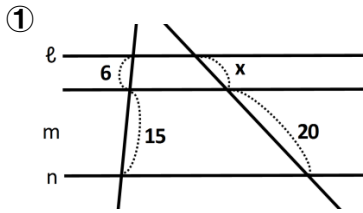


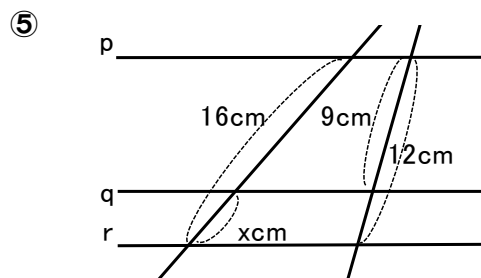
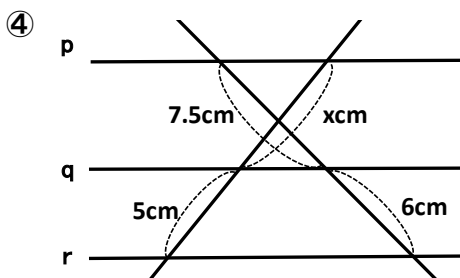
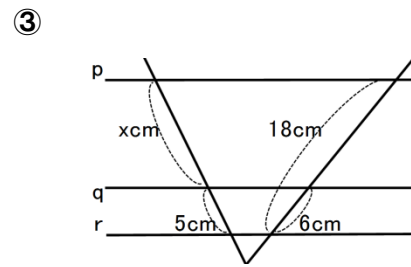
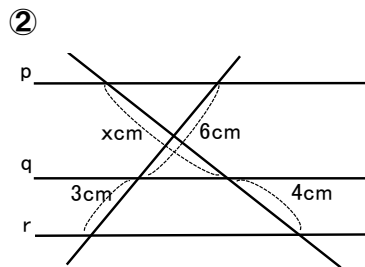
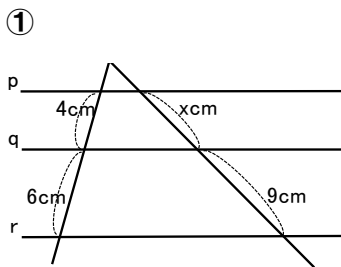
相似な図形（平行線と線分の比②）

組 番 名前

1 直線 l, m, n が平行であるとき、 x の値を求めなさい。



2 直線 p, q, r が平行であるとき、 x の値を求めなさい。



3 右の図で、 $AB \parallel DC$, $AB \parallel EF$ とするとき、次の問いに答えなさい。

① $BF : FC$ を答えなさい。

② EF の長さを求めなさい。

