

一次関数（一次関数のグラフ③）

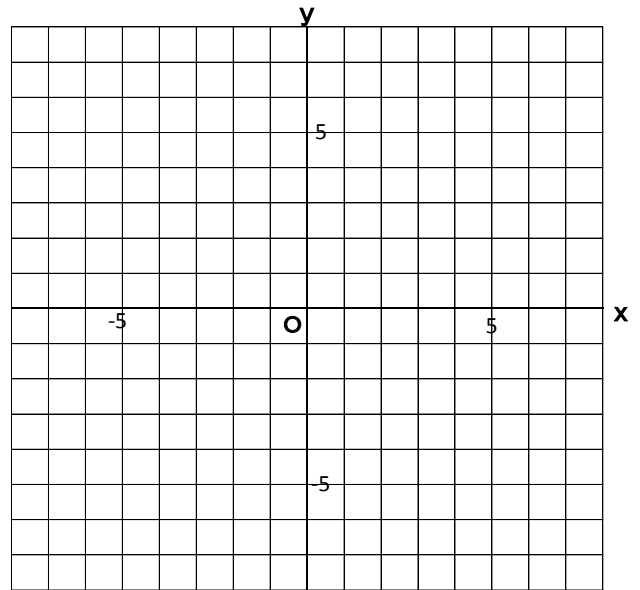
組 番 名前 _____

1 次の一次関数のグラフを、右の図にかきなさい。

① $y = x - 3$

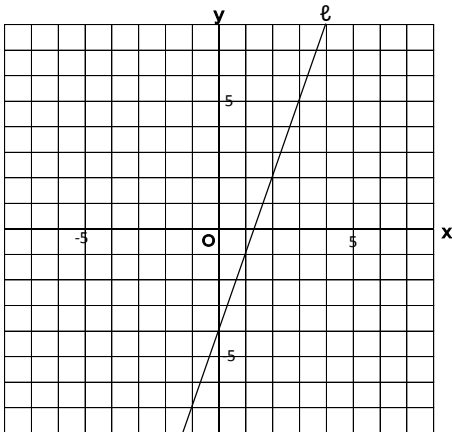
② $y = -\frac{2}{3}x + 2$

③ $y = -2x + 1$

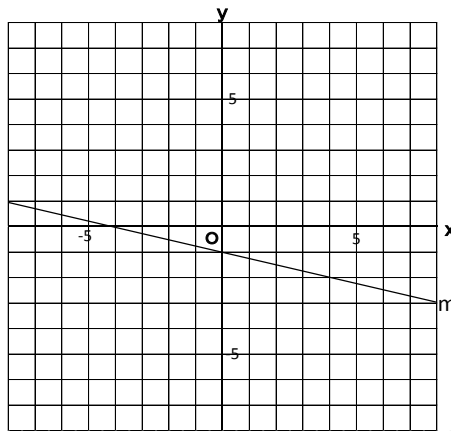


2 ①～③のグラフについて、ア. 切片 イ. 傾き ウ. 直線の式を求めなさい。

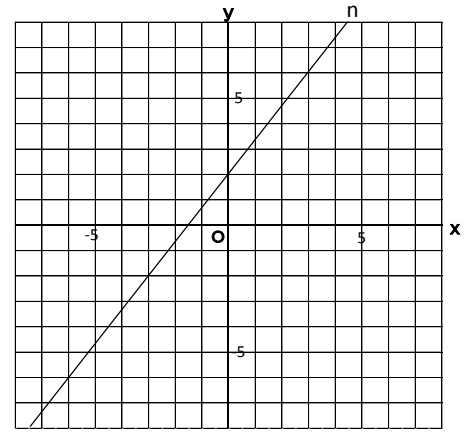
①



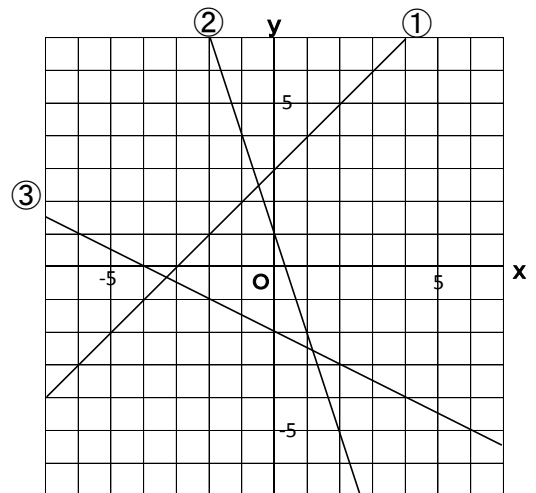
②



③



3 右の①～③のグラフについて、直線の式を求めなさい。



① _____ ② _____ ③ _____